

**Проверочная работа
по МАТЕМАТИКЕ**

4 КЛАСС

Вариант 9

Инструкция по выполнению работы

На выполнение работы по математике даётся 45 минут. Работа содержит 12 заданий.

В заданиях 1, 2, 4, 5 (пункт 1), 6–8, 11 (пункты 1 и 2) необходимо записать только ответ. Запиши его в отведённом для этого поле со словом «Ответ».

В задании 5 (пункт 2) нужно изобразить на рисунке прямую линию, а в задании 10 – букву.

В заданиях 3, 9, 12 требуется записать решение и ответ в отведённом для этого поле.

Если ты хочешь изменить ответ, то зачеркни его и запиши рядом новый.

При выполнении работы нельзя пользоваться учебниками, рабочими тетрадями, справочниками, калькулятором.

При необходимости можно пользоваться черновиком. Записи в черновике проверяться и оцениваться не будут.

Советуем выполнять задания в том порядке, в котором они даны. Для экономии времени пропускай задание, которое не удаётся выполнить сразу, и переходи к следующему. Постарайся выполнить как можно больше заданий.

Желаем успеха!

- 9 В школе 30 кабинетов, в каждом кабинете стоит по 10 столов. После учебного года в школе осталось 564 целых стула. Сколько стульев требуется купить, чтобы у каждого стола стояло 2 стула?

Запиши решение и ответ.

Решение:	
Ответ:	

- 10 На полу лежит кубик, на гранях которого нарисованы буквы (рис. 1). Кубик перекатали через ребро, как показано на рисунке. Пунктиром на рисунке изображён след от предыдущего положения кубика. После этого кубик таким же образом перекатали через другое ребро, в результате чего грань с одной из букв оказалась сверху.

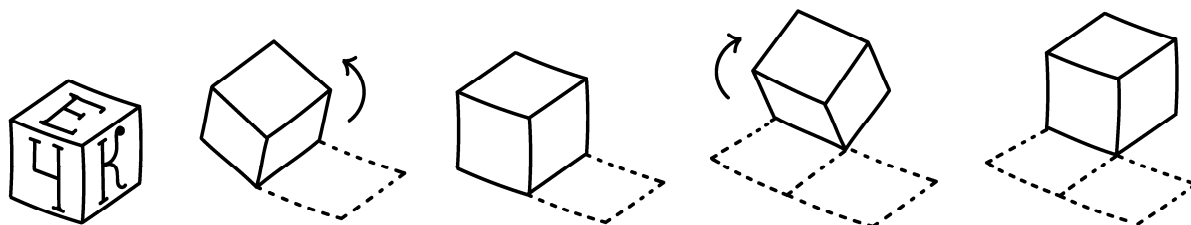


Рис. 1

На рис. 2 показаны следы кубика и его конечное положение (вид сверху). Изобрази на этом рисунке букву, которая оказалась на верхней грани кубика. Буква должна быть расположена так, как она нарисована на кубике. Один из рисунков используй как черновик.

Черновик

Ответ

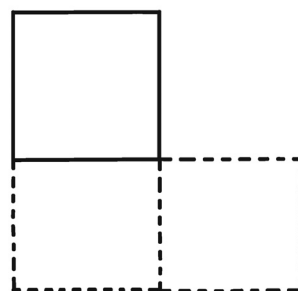
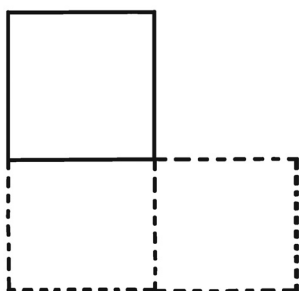


Рис. 2

11) Петру Николаевичу нужно посетить трёх врачей в поликлинике: окулиста, стоматолога и терапевта. Он пришёл в поликлинику к 10 часам и выяснил, что стоматолог принимает с 11 до 13 часов, терапевт – с 10 до 12, а окулист свободен только с 11 до 12 часов. Петру Николаевичу удалось посетить всех трёх врачей и провести у каждого ровно по часу.

1) У какого врача Петр Николаевич был в 11:30?

<div style="border: 1px dashed black; width: 40px; height: 30px; display: inline-block; margin-bottom: 5px;"></div> Ответ:	
--	--

2) К какому врачу отправился Петр Николаевич после посещения окулиста?

<div style="border: 1px dashed black; width: 40px; height: 30px; display: inline-block; margin-bottom: 5px;"></div> Ответ:	
--	--

12) В 10 часов утра на стадионе было 28 человек, из которых часть играли в футбол, а часть – в волейбол. Затем семь из игравших в футбол ушли со стадиона, а три человека, игравших в волейбол, пошли играть в футбол. В результате играющих в футбол стало в два раза больше, чем играющих в волейбол. Сколько человек играли в футбол в 10 часов утра?

Запиши решение и ответ.

Решение:	
<div style="border: 1px dashed black; width: 40px; height: 30px; display: inline-block; margin-bottom: 5px;"></div> Ответ:	

**Проверочная работа
по МАТЕМАТИКЕ**

4 КЛАСС

Вариант 10

Инструкция по выполнению работы

На выполнение работы по математике даётся 45 минут. Работа содержит 12 заданий.

В заданиях 1, 2, 4, 5 (пункт 1), 6–8, 11 (пункты 1 и 2) необходимо записать только ответ. Запиши его в отведённом для этого поле со словом «Ответ».

В задании 5 (пункт 2) нужно изобразить на рисунке прямую линию, а в задании 10 – букву.

В заданиях 3, 9, 12 требуется записать решение и ответ в отведённом для этого поле.

Если ты хочешь изменить ответ, то зачеркни его и запиши рядом новый.

При выполнении работы нельзя пользоваться учебниками, рабочими тетрадями, справочниками, калькулятором.

При необходимости можно пользоваться черновиком. Записи в черновике проверяться и оцениваться не будут.

Советуем выполнять задания в том порядке, в котором они даны. Для экономии времени пропускай задание, которое не удаётся выполнить сразу, и переходи к следующему. Постарайся выполнить как можно больше заданий.

Желаем успеха!

6) Ниже приведены данные по числу человек в очереди к каждому из трёх врачей.

Время	Иванов	Семёнов	Михайлов
11:00	5	8	13
12:00	3	2	7
13:00	6	7	3
14:00	10	5	2
15:00	2	12	14

В какое время с 11 до 15 часов у врача Иванова была самая маленькая очередь?

<div style="border: 1px dashed gray; width: 20px; height: 20px; margin: 0 auto;"></div>	Ответ:	
---	--------	--

7) Найди значение выражения $46 \cdot 4 - 328 : 8$.

<div style="border: 1px dashed gray; width: 20px; height: 20px; margin: 0 auto;"></div>	Ответ:	

8) В кинотеатре показывают фильм, длительность которого – 2 часа 25 минут. После каждого сеанса устраивается перерыв на полчаса. Первый сеанс начался в 12:00. Во сколько закончится третий сеанс?

<div style="border: 1px dashed gray; width: 20px; height: 20px; margin: 0 auto;"></div>	Ответ:	

