

Проверочная работа
по предмету «ОКРУЖАЮЩИЙ МИР»

4 класс

Вариант 21

Инструкция по выполнению работы

На выполнение работы по предмету «Окружающий мир» даётся 45 минут. Работа состоит из двух частей и включает в себя 10 заданий.

Ответы на задания запиши в поле ответа в тексте работы.

При выполнении работы не разрешается пользоваться учебником, рабочими тетрадями и другими справочными материалами.

Советуем выполнять задания в том порядке, в котором они даны. Для экономии времени пропускай задание, которое не удаётся выполнить сразу, и переходи к следующему. Постарайся выполнить как можно больше заданий.

Желаем успеха!


Часть 1

1

Внимательно рассмотри рисунок, на котором изображён автомобиль. Крышка фары автомобиля может быть изготовлена из пластика. Она отмечена на рисунке стрелкой с соответствующей надписью.

Какие предметы или детали среди изображённых на рисунке могут быть сделаны из металла, а какие – из резины?

Укажи на рисунке стрелкой любой предмет (деталь) из металла и любой предмет (деталь) из резины. Подпиши название соответствующего материала рядом с каждой стрелкой.



2

На интернет-сайтах погоды можно встретить подобные таблицы. Внимательно изучи прогноз погоды на трое суток.

	Вторник, 27 октября				Среда, 28 октября				Четверг, 29 октября			
	Ночь	Утро	День	Вечер	Ночь	Утро	День	Вечер	Ночь	Утро	День	Вечер
Облачность и атмосферные осадки												
Температура воздуха, °С	3	4	6	4	1	4	7	3	0	2	5	3
Ветер												
	3	С	СВ	3	С	СВ	В	СВ	С	С	3	С
Влажность воздуха, %	79	71	57	59	74	68	56	76	76	56	60	82

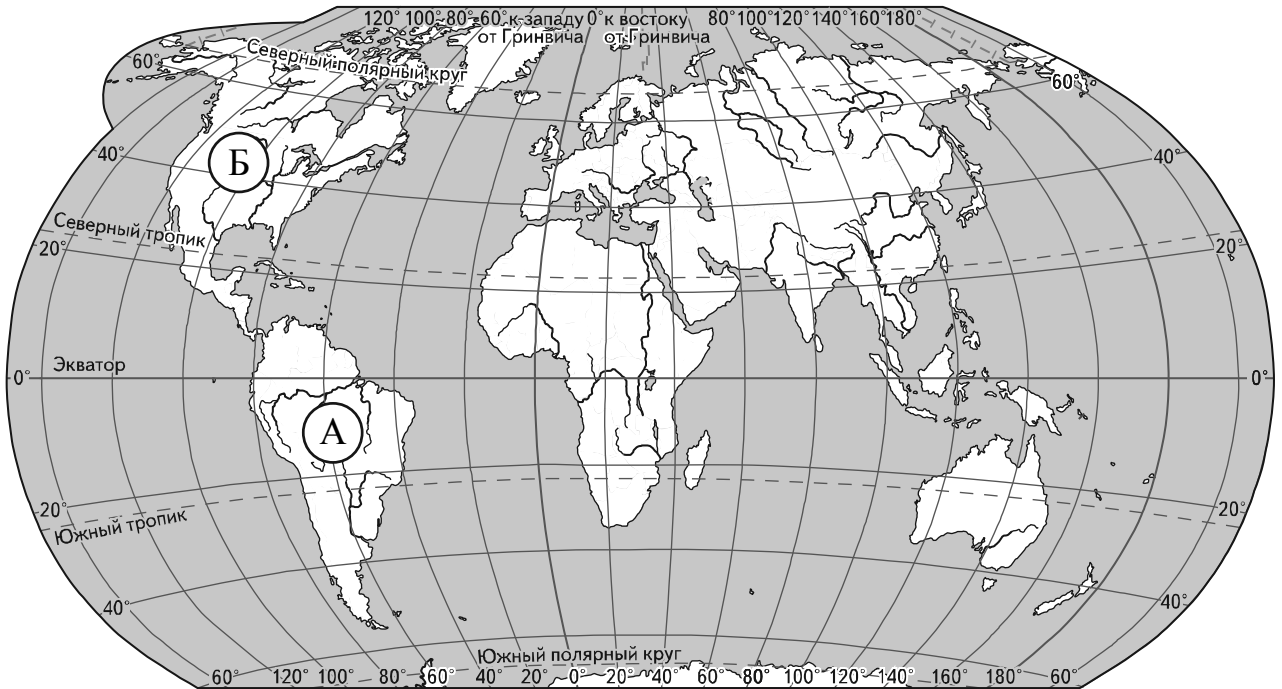
Выбери верные утверждения об ожидаемой погоде на эти трое суток и запиши в строку ответа их номера.

- 1) К вечеру среды осадки прекратятся.
- 2) Во вторник днём воздух прогреется до 6 °С.
- 3) В течение трёх суток будет преобладать восточный ветер.
- 4) Влажность воздуха с вечера вторника до утра среды не изменится.

Ответ: _____

Рассмотри карту, фотографии и выполни задание 3.

3. Внимательно рассмотри карту. На ней буквами А и Б отмечены два материка.



3.1. Запиши название каждого материка в отведённое для этого поле.

Название материка **А**: _____ Название материка **Б**: _____

3.2. На следующей странице представлены изображения *полярной совы*, *ламы*, *Виктории Регии* и *секвойи*. Запиши на строчках ниже название каждого из этих растений и животных рядом с номером фотографии, на которой оно изображено.

1) _____ 2) _____
3) _____ 4) _____

3.3. Какие из этих растений и животных обитают в естественной среде (не в ботаническом саду или зоопарке) на материке А, а какие – на материке Б? Запиши **номера**, под которыми указаны эти растения и животные, в отведённое для этого поле после буквы соответствующего материка.

Номера животных/растений **А**: _____ Номера животных/растений **Б**: _____



1)



2)



3)



4)

4) Если правильно подобрать к началу каждой фразы из первого столбца продолжение фразы из второго столбца, то получится правило, помогающее человеку сохранить здоровье и жизнь. Составь два правила из приведённых частей фраз: для этого к каждой позиции первого столбца подбери соответствующую позицию из второго столбца.

Начало фразы

Продолжение фразы

- | | |
|---|---|
| <p>А) Чтобы не перегреться, находясь на улице в жаркую солнечную погоду,</p> <p>Б) Чтобы избежать отравления,</p> | <p>1) надень головной убор.</p> <p>2) не принимай лекарства без указаний врача.</p> <p>3) надень тёплую одежду.</p> |
|---|---|

Запиши в таблицу выбранные цифры под соответствующими буквами.

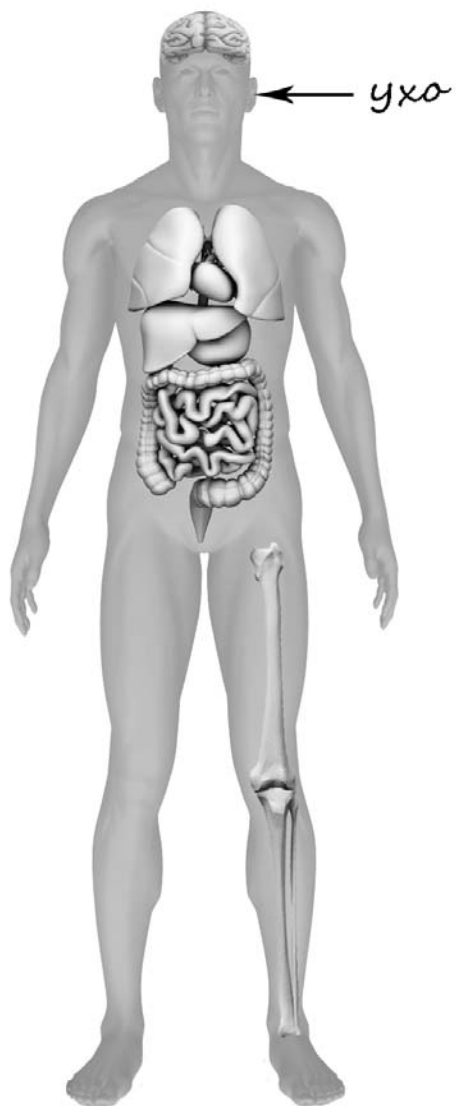


Ответ:

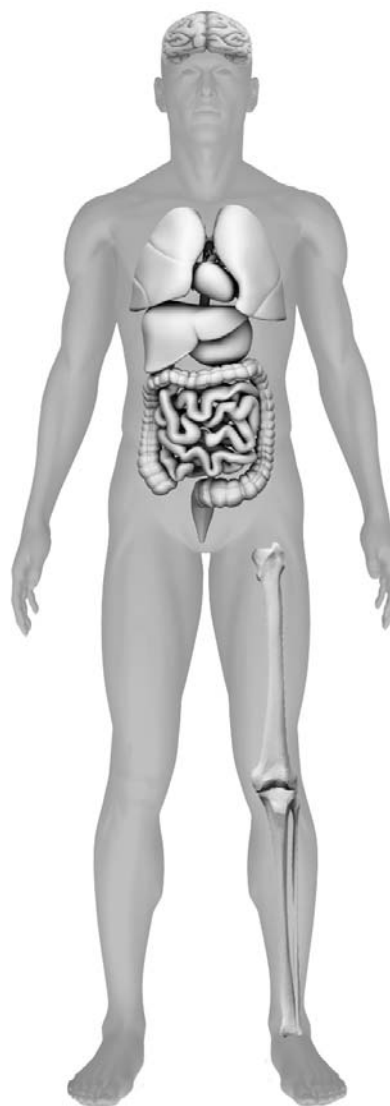
Начало фразы	А	Б
Продолжение фразы		

- 5) Рассмотрите изображение человека. Так же, как на примере слева отмечено ухо, на изображении справа покажите стрелками и подпишите кость скелета, лодыжку и лёгкое человека.

Пример:



Ответ:



6

Николай решил сравнить скорости прохождения горячей и холодной воды через слой почвы. Для этого он взял два одинаковых стеклянных стакана, две воронки и бумажные салфетки. Из бумажных салфеток Николай изготовил фильтры и положил их в воронки. Затем он насыпал в обе воронки одинаковое количество почвенной смеси для комнатных растений и поставил под каждую воронку стакан. В одну воронку он налил 50 мл горячей воды, а в другую – такое же количество холодной воды и стал наблюдать за появлением воды в каждом из стаканов.



6.1. Сравни условия прохождения воды в разных воронках в описанном эксперименте. Подчеркни в каждой строке одно из выделенных слов.

Температура воды в воронках:

одинаковая / различная

Вещество, через которое проходит вода в воронках:

одинаковое / различное

6.2. Какие измерения и сравнения надо проводить, чтобы сравнить скорости прохождения горячей и холодной воды через слой почвы?

Ответ: _____

6.3. Если Николай захочет сравнить скорости прохождения воды через одинаковые слои песка и глины, какой эксперимент ему нужно провести? Опиши этот эксперимент.

Ответ: _____

Часть 2

При выполнении заданий 7–10 последовательно отвечай на каждый из представленных вопросов. Ответы записывай чётко и разборчиво, соблюдая нормы речи.

7

Внимательно рассмотри знаки, которые можно встретить соответственно на улице, в парке и музее.

Как ты думаешь, какое правило отражает каждый из этих знаков?
Напиши эти правила.



1)



2)



3)

Правило 1: _____

Правило 2: _____

Правило 3: _____



8

На фотографиях изображены предметы, с которыми работают представители определённых профессий.

Выбери одну из фотографий и запиши букву, под которой она приведена. Представители какой профессии работают с изображённым(-и) на выбранной фотографии предметом(-ами)? Если ты знаешь много профессий, представители которых работают с выбранным(-и) тобой предметом(-ами), назови любую из них. Какую работу выполняют люди этой профессии? Чем работа людей этой профессии полезна обществу?

А)



Б)



В)



Выбранная фотография:



Ответ: _____

9 Почему важно, чтобы человек был трудолюбивым? (Напиши ответ объёмом до пяти предложений.)

Ответ: _____

10 10.1. Запиши название региона: республики, или области, или края, или автономного округа, в котором ты живёшь.

Ответ: _____

10.2. Как называется главный город твоего региона?

Ответ: _____

10.3. Производством каких товаров или продуктов известен твой регион?

Ответ: _____

Какие звери или птицы могут встретиться в природе твоего региона (назови не менее трёх зверей или птиц)? Опиши одного из этих зверей или птиц. Чем питается этот зверь или эта птица?

Ответ: _____
